



PEMERINTAH KOTA DEPOK
DINAS PENDIDIKAN

ULANGAN KENAIKAN KELAS
SEKOLAH MENENGAH PERTAMA (SMP)
Tahun Pelajaran 2011/2012



LEMBAR SOAL

Mata Pelajaran : Tehnologi Informasi dan Komunikasi (TIK)
Kelas : VII (Tujuh)
Hari, Tanggal : Sabtu, 16 Juni 2012
Waktu : 90 menit

PETUNJUK :

1. Disediakan Lembar Jawaban Komputer (LJK)
2. a. LJK dipergunakan untuk jawaban Soal Pilihan Ganda.
b. Tulislah dengan jelas : Nama Anda, Nomor Peserta Anda, Sekolah Asal, Tanggal Ulangan Kenaikan Kelas, Jam ke, Tanda tangan, dan menghitamkan bulatan kecil pada LJK sesuai dengan petunjuk.
c. Jawaban dikerjakan dengan cara menghitamkan bulatan kecil sesuai dengan jawaban yang Anda anggap benar.
d. Apabila ada jawaban yang keliru dan Anda ingin memperbaikinya, hapuslah jawaban yang keliru itu dengan menggunakan karet penghapus pensil, kemudian hitamkan bulatan kecil lain sesuai dengan jawaban yang Anda anggap benar.
e. LJK jangan sampai rusak, basah atau kotor
3. Periksa dan bacalah soal-soal sebelum Anda menjawabnya.
4. Laporkan kepada Pengawas Ulangan Kenaikan Kelas kalau terdapat tulisan yang kurang jelas, rusak atau jumlah soal kurang.
5. Jumlah soal sebanyak : Pilihan ganda 40 soal, Uraian 5 soal
6. Dahulukan menjawab soal-soal yang Anda anggap mudah
7. Mintalah kertas buram kepada pengawas Ulangan Kenaikan Kelas, bila diperlukan
8. Periksalah pekerjaan Anda sebelum Anda serahkan kepada pengawas Ulangan Kenaikan Kelas.

SELAMAT BEKERJA

I Pilihan Ganda

1. Perangkat komputer yang berupa wujud dapat dilihat dan diraba merupakan pengertian dari....

- A. Software
- B. Hardware
- C. Brainware
- D. Tupperware

- 2. 1. Mouse
- 2. Disket
- 3. Keyboard
- 4. monitor

Berdasarkan data yang termasuk alat input adalah....

- A. 1 dan 2
- B. 1 dan 3
- C. 2 dan 3
- D. 2 dan 4

3. Nama perangkat pada gambar berikut adalah....



- A. netbook
- B. Mouse
- C. Printer
- D. scanner

4. Nama lain dari gambar berikut adalah

- A. Papan tuts
- B. Pemindai
- C. Papan ketik
- D. Tetikus



5. Manakah yang merupakan tipe dari mouse

- A. Mekanis
- B. Statis
- C. Elastis
- D. Praktis

6. Perangkat berikut yang merupakan perangkat input visual adalah....

- A. Microphone
- B. Telepon
- C. Camera
- D. Keyboard

7. Perangkat berikut yang merupakan perangkat input audio adalah....
 A. Microphone
 B. Telepon
 C. Camera
 D. Keyboard
8. Perangkat berikut yang merupakan perangkat input teks adalah....
 A. Microphone
 B. Telepon
 C. Camera
 D. Keyboard
9. Perangkat keras yang berfungsi untuk menyimpan informasi sebelum atau sesudah diproses oleh prosesor adalah...
 A. Memory
 B. Prosesor
 C. Motherboard
 D. Hard disk
10. Nama perangkat keras yang ditunjukkan pada gambar adalah....







- A. Hard disk
 B. Prosesor
 C. Memory
 D. Motherboard
11. Perhatikan data berikut!
 1. Speaker
 2. Printer
 3. Mouse
 4. Monitor
 5. Memory
 Yang merupakan kelompok perangkat output adalah....
 A. 1, 2 dan 3
 B. 1, 2 dan 4
 C. 1, 2 dan 5
 D. 1, 3 dan 4



12. Nama perangkat keras tersebut adalah....
 A. Scanner
 B. Printer
 C. CPU
 D. CD Room
13. Salah satu alat output yang tampilan fisiknya menyerupai televisi adalah....
 A. Speaker
 B. Printer
 C. Monitor
 D. Prosesor

14. Alat output yang menghasilkan suara adalah....
 A. Speaker
 B. Printer
 C. Monitor
 D. Prosesor
15. Alat output yang bisa menghasilkan tulisan, gambar maupun grafik dalam media kertas adalah....
 A. Speaker
 B. Printer
 C. Monitor
 D. Prosesor
16. Berikut yang merupakan perangkat media penyimpanan adalah....
 A. Hard disk
 B. Keyboard
 C. Mouse
 D. Speaker
17. Gambar tersebut termasuk peralatan



- A. Alat input
 B. Alat output
 C. Media proses
 D. Media penyimpanan
18. Pada Microsoft office ikon yang berfungsi untuk menyimpan data adalah....
 A. 
 B. 
 C. 
 D. 
19. Yang termasuk media penyimpanan internal adalah....
 A. Floppy drive
 B. Hard disk
 C. Flash disk
 D. Optical drive
20. Yang termasuk media penyimpanan optical disk adalah
 A. Floppy disk dan hard disk
 B. ATM dan chip card
 C. CD dan DVD
 D. Cassette dan reel to reel tape

21. Media penyimpanan yang menggunakan teknologi USB adalah....
 A. Flash disk
 B. Hard disk
 C. Floppy drive
 D. Optical drive

22. Salah satu bagian media penyimpanan adalah....
- Dynamic disk
 - Static disk
 - Elastic disk
 - Magnetic disk
23. Perangkat komputer yang tidak berwujud yang merupakan jiwa dari sebuah komputer disebut....
- Hardware
 - Software
 - Tupperware
 - Brainware
24. Berikut ini yang merupakan system operasi adalah....
- Windows dan linux
 - Internet dan ekstranet
 - Google dan yahoo
 - Microsoft dan open source
25. Pernyataan yang benar tentang Microsoft word....
- Merupakan aplikasi pengolah angka
 - Merupakan aplikasi berbasis presentasi
 - Merupakan aplikasi pengolah kata
 - Merupakan aplikasi pengolah music
26. Aplikasi Windows yang memiliki ikon berikut adalah....



- Microsoft word
 - Microsoft excel
 - Microsoft power point
 - Microsoft access
27. Fungsi dari ikon berikut adalah....
-
- Membuka file
 - Membuat file baru
 - Menyimpan file
 - Mencetak file
28. Ikon yang digunakan untuk menutup aplikasi adalah....
- -
 -
 -

29. Aplikasi berikut yang digunakan untuk mengolah angka adalah....
- Microsoft word
 - Staroffice writer
 - Lotus 1-2-3
 - Lotus word pro

30. Ikon berikut yang merupakan aplikasi pengolah kata adalah....
- -
 -
 -

31. Fungsi Icon berikut adalah....
-
- Membuka file
 - Menyimpan file
 - Membuat file baru
 - Mencetak file

32. Ikon berikut mempunyai fungsi untuk....
-
- Memimize tampilan
 - Memaximize tampilan
 - Menutup aplikasi
 - Membuka aplikasi

33. 1. View slide
2. Design slide
3. Animation schema
4. Line spacing

Dari data tersebut manakah yang merupakan sub menu dari menu slide show pada Ms.Power Point 2003....

- 1 dan 2
 - 1 dan 3
 - 1 dan 4
 - 2 dan 3
34. Menu apakah yang hanya ada pada Ms. Power Point 2007 dan tidak ada pada Ms.Word 2007 dan Ms.Excel 2007....
- Animation
 - Insert
 - Home
 - View


35. Aplikasi pengolah kata yang bisa dijalankan pada semua system operasi (multi platform)adalah....
- Ms.Word
 - Lotus Word Pro
 - Corel Word Perfect
 - StarOffice Writer

36. Salah satu dari aplikasi pengolah angka memiliki nama yang sama dengan alat hitung yang ada pada zaman dahulu, yaitu....
- StarOffice calc
 - Kspread
 - Abacus
 - Lotus 1-2-3

37. Aplikasi manakah yang merupakan pengolah angka paling tua yang dikeluarkan oleh IBM....

- A. Ms.Excel
- B. StarOffice calc
- C. Lotus 1-2-3
- D. Kspread

38. Posisi jendela berikut pada Ms.Office adalah....



- A. Kanan atas
- B. Kiri atas
- C. Kanan bawah
- D. Kiri bawah

39. Shortcut yang merupakan aplikasi notepad adalah



40. Shotcut berikut adalah aplikasi dari



- A. Aplikasi pengolah kata
- B. Aplikasi pengolah angka
- C. Aplikasi pengolah presentasi
- D. Aplikasi pengolah grafis

II. Uraian

41. Sebutkan dan jelaskan 2 (dua) perangkat keras yang berfungsi sebagai alat input !

42. Sebutkan dan jelaskan 2 (dua) perangkat keras yang berfungsi sebagai alat output !

43. Sebutkan 4 contoh aplikasi pengolah kata !

44. Sebutkan 4 contoh aplikasi pengolah angka !

45. Jelaskan cara membuat sebuah folder pada my document!